






## EXERCICE

Voici les cartes utilisées dans un certain jeu. Elles portent toutes un nombre relatif.



1. Calculer la somme de toutes les cartes.
2. Si on enlève la carte , que vaut alors la somme de ces cartes?
3. On remet la carte précédente et on enlève la carte . Que vaut alors la somme des cartes?
4. Même question pour les cartes suivantes.
  - a. 
  - b. 
  - c. 
5. Proposer une méthode générale pour soustraire un nombre négatif à un nombre relatif.