

## EXERCICE

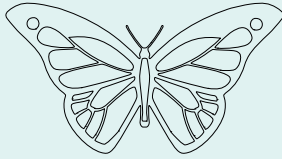


Figure 1




Figure 4




Figure 2

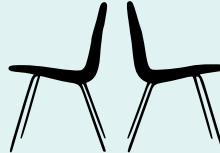


Figure 5




Figure 3



Figure 6

1. Pour chacune des figures ci-dessus, est-il possible de trouver un axe de pliage pour que la figure se superpose parfaitement sur elle-même? Les tracer dans les cas où c'est possible.
2. Comment s'appelle un tel axe de pliage?
3. Dans le cas où la figure se superpose sur elle-même, comment s'appelle "l'autre moitié" de la figure par rapport à l'axe de pliage?