




## EXERCICE

1. Répartir les pièces équitablement dans les tirelires ci-dessous.



2. Compléter la phrase ci-dessous.

J'ai réparti ..... pièces de manière équitable dans ..... tirelires. J'ai pu le faire car .....

3. a. Aurait-on pu faire de même avec 12 pièces?  
b. Aurait-on pu faire de même avec 13 pièces?  
c. Aurait-on pu faire de même avec 5 251 421 154 pièces?

4. Trouver la relation mathématique liant un nombre entier avec un de ses diviseurs.

